



مجری آزمون
ایران آزمون



زمان برگزاری آزمون
۳ تیر ۱۴۰۰

اصل سوالات آزمون استخدامی

بانک ملت ۱۴۰۰

✓ اصل سوالات آزمون استخدامی بانک ملت برگزار شده در ۳ تیر ۱۴۰۰

✓ نسخه رایگان شامل ۶۹ سوال به همراه کلید سوالات در انتهای جزوه

✓ مجری آزمون: ایران آزمون



لینک های مفید آزمون استخدامی بانک ملت

خرید سوالات بانک ملت	سوالات رایگان بانک ملت با پاسخنامه
خرید سوالات استخدامی ۱۰ سال اخیر	خرید درسنامه دروس عمومی
منابع آزمون	خرید سوالات شب آزمون
اخبار آزمون	شبکه های اجتماعی ایران عرضه (فایل های رایگان + تخفیفات هفتگی + اخبار)

(برای مشاهده هر بخش روی آن بزنید )

فهرست مطالب

❖ فصل اول: سوالات تایپ شده آزمون استخدامی بانک ملت سال ۱۴۰۰ - صفحه ۴ (۶۹ سوال)

زبان و ادبیات فارسی- هوش، استعداد تحصیلی و توانمندی های عمومی- فناوری اطلاعات و مهارت های
هفتگانه ICDL- ریاضی و آمار مقدماتی

❖ فصل دوم: کلید سوالات آزمون استخدامی بانک ملت سال ۱۴۰۰ - صفحه ۱۲



❖ سوالات آزمون استخدامی بانک ملت سال ۱۴۰۰

۱- متن «وی صحبتی و فساحتی و بلاقتی داشت که کس نداشت» چند غلط املایی دارد؟

- (۱) سه (۲) چهار (۳) دو (۴) یک

۲- در کدام گزینه غلط املایی دیده می‌شود؟

- (۱) نفس ناتقه (۲) عار و ننگ (۳) حلاوت و شیرینی (۴) عمارت‌خانه

۳- منظومه «حیدر بابایه سلام» به زبان ترکی آذربایجانی اثر کیست؟

- (۱) خواجه عبدالله انصاری (۲) شهریار

- (۳) صادق هدایت (۴) علی‌اکبر دهخدا

۴- همه گزینه‌ها به جز گزینه دارای آرایه تشبیه هستند.

- (۱) شب تیره ستم (۲) دو چشمش به سان دو نرگس

- (۳) منش خبیث (۴) دشمنی او چون آتش خفته است.

۵- مفهوم کنایی «چند مرده حلاج بودن» از کدام بیت دریافت می‌شود؟

- (۱) فریب جهان قصه روشن است / سحر تا چه زاید شب آبستن است

- (۲) بالا بنمای ای سنایی هان / تا چند گزی است بوریای تو

- (۳) زر نداری نتوان رفت به زور از دریا / زور ده مرده چه خواهی زر یک مرده بیار

- (۴) نه مرد است آن به نزدیک خردمند / که با پیل‌دمان پیکار جوید

۶- بیت «ثوابت باشد ای دارای خرمن / اگر رحمی کنی بر خوشه‌چینی» با کدام بیت ارتباط معنایی ندارد؟

- (۱) خواهی که خدای بر تو بخشد / با خلق خدای کن نکویی

- (۲) بزرگی بایدت بخشندگی کن / که تا دانه نیفشانی نروید

- (۳) گوشه چشمی به سوی من نداری گویا / خرمن حسن تو دارد خوشه‌چین تازه‌ای

- (۴) حاصل نشود رضای سلطان / تا خاطر بندگان نجویی

۷- مفهوم بیت «دود اگر بالا نشیند کسر شأن شعله نیست / جای چشم ابرو نگیرد، گرچه او بالاتر است» با کدام بیت تناسب

دارد؟

- (۱) به هم دانا و نادان کی بود خوش / کجا دمساز باشد آب و آتش

- (۲) دل نازک به نگاه کجی آزرده شود / خار در دیده چو افتاد کم از سوزن نیست

- (۳) نه هر که صدرنشین شد عزیز شد که غبار / اگر به دیده رسد توتیا نخواهد شد

- (۴) خار و سمن هر دو به نسبت گیاست / این خسک دیده و آن توتیاست

۸- مقصود دقیق مصراع «لب و دندان سنایی همه توحید تو گوید» چیست؟

(۱) با خلوص نیت (۲) با دیده عقل (۳) با بینش فراوان (۴) با تمام وجود

۹- مفهوم کدام بیت با «دیو چو بیرون رود فرشته درآید» متناسب است؟

(۱) به یزدان هر آن کس که شد ناسپاس / به دلش اندر آید ز هر سو هراس

(۲) کسی کاو هوای فریدون کند / سر از بند صَحّاک بیرون کند

(۳) منی چون بپیوست با کردگار / شکست اندر آورد و برگشت کار

(۴) همی برخوردشید و فریاد خواند / جهان را سراسر سوی داد خواند

۱۰- بیت «اگر در دیده مجنون نشینی / به غیر از خوبی لیلی نبینی» بیانگر کدام مفهوم زیبایی اخلاقی است؟

(۱) عیب پوشی (۲) خوش خویی (۳) آرام جویی (۴) طنازی

۱۱- بیت «دیدی که مرا هیچ کسی یاد نکرد / جز غم که هزار آفرین بر غم باد» با مفهوم کدام بیت تناسب معنایی ندارد؟

(۱) این فخر بس مرا که چو پیدا شدم ز دور / شادی کنان غم تو به رویم سلام کرد

(۲) غم می خوریم و هیچ شکایت نمی کنیم / ما را چه غم ز غم؟ که غمت غمگسار ماست

(۳) آگه نیم که چیست غم را سبب ولی / دانم که یاد غم سبب شادی من است

(۴) از دل غبار غم به گریستن نمی رود / این خانه را به سیل مگر رفت و رو کنند

۱۲- ضرب المثل «زبان سرخ سر سبز می دهد بر باد» با کدام گزینه در تضاد است؟

(۱) سخنان نیش دار به قیمت جان انسان است

(۲) زخم زبان از زخم شمشیر بدتر است

(۳) زبان در دهان، پاسبان سر است

(۴) زبان خوش، مار را از سوراخ بیرون می کشد

۱۳- مفهوم «این دغل دوستان که می بینی / مگسانند دور شیرینی» با کدام گزینه ارتباط معنایی بیشتری دارد؟

(۱) تا پول داری رفیقتم، قربان بند کیفتم

(۲) دشمن دانا به از دوست نادان

(۳) دوست آن باشد که گیرد دست دوست / در پریشان حالی و درماندگی

(۴) مار گزیده از ریسمان سیاه و سفید می ترسد.

۱۴- علامت گیومه در همه گزینه ها، به جز درست به کار رفته است.

(۱) اقبال از نوع شاعرانی است که «کواکبی» آن ها را ستود.

(۲) علامت «جات» به عنوان نشانه جمع در فارسی پسندیده نیست.

(۳) عنوان «وکالت نامه» بر بالای وسط صفحه نوشته می شود.

(۴) و بار دیگر او را به «خودش» مؤمن سازد.

۱۵- از نظر نگارش، استعمال کدام کلمه درست است؟

- (۱) مسافرین (۲) دستورات (۳) سفارشات (۴) بازرسین

هوش، استعداد تحصیلی و توانمندی های عمومی

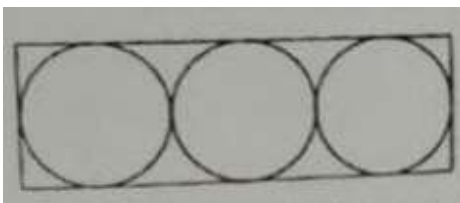
۱۶- چه عددی باید به جای علامت سؤال در سری ۱,۱,۲,?,۲۴,۱۲۰,۷۲۰ قرار گیرد؟

- (۱) ۳ (۲) ۴ (۳) ۵ (۴) ۶

۱۷- در یک میهمانی اگر هر ۵ نفر دور یک میز بنشینند، سه میز خالی می ماند. اگر هر چهار نفر دور یک میز بنشینند، ۵ نفر بدون میز می ماند. مهمانان چند نفر هستند؟

- (۱) ۳۷ (۲) ۲۰ (۳) ۸۵ (۴) ۱۰

۱۸- در شکل مقابل، مساحت هر یک از دایره های محصور در مستطیل، 9π است. مساحت مستطیل کدام است؟



(۱) 108

(۲) 27

(۳) 54π

(۴) 108π

۱۹- در یک بازی شش نفره که ۴۵ دقیقه طول می کشد، سه نفر ذخیره به طور پیوسته جابه جا می شوند به طوری که همه بازیکنان زمان یکسانی را در زمین باشند. هر بازیکن چند دقیقه بازی می کند؟

- (۱) ۳۰ (۲) ۲۵ (۳) ۴۰ (۴) ۳۵

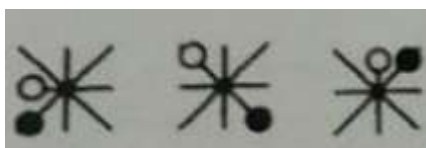
۲۰- چراغ قوه ای به دو باتری نیاز دارد. اگر ۵ باتری داشته باشیم که دو تای آنها خراب باشد، با حداقل چند بار امتحان کردن، می توانیم دو باتری خراب را مشخص کنیم؟

- (۱) ۳ (۲) ۴ (۳) ۵ (۴) ۶


۲۱- در سری $VXZ, \dots, FHJ, JLN, NPR$ ، کدام گزینه باید در جای خالی قرار گیرد؟

- (۱) SUW (۲) RSU (۳) RTV (۴) SUV

۲۲- چه شکلی به جای علامت سؤال قرار گیرد؟



(۲)



(۱)



(۴)



(۳)

۲۳- باقیمانده تقسیم ۹۹۹ بر یک عدد دو رقمی، برابر ۳ است. باقیمانده تقسیم ۲۰۰۱ بر این عدد کدام است؟

- (۱) ۳ (۲) ۵ (۳) ۶ (۴) ۷

- هر سؤال حاوی دو اطلاع (تحت عنوان اطلاع I و اطلاع II) است. مطابق دستورالعمل زیر، پاسخ صحیح سؤالات ۲۴ و ۲۵ را مشخص نمائید.

* اگر اطلاع I به تنهایی برای پاسخگویی به سؤال مطرح شده کافی باشد ولی اطلاع II به تنهایی کافی نباشد (یا برعکس)، گزینه ۱ را علامت بزنید.

* اگر دو اطلاع I و II با هم برای پاسخگویی به سؤال کافی باشند ولی هر کدام از این دو اطلاع به تنهایی برای پاسخگویی به سؤال کافی نباشند، گزینه ۲ را علامت بزنید.

* اگر هر کدام از دو اطلاع I و II به تنهایی برای پاسخگویی به سؤال کافی باشد، گزینه ۳ را علامت بزنید.

* اگر دو اطلاع I و II با هم نیز برای پاسخگویی به سؤال کافی نباشند، گزینه ۴ را علامت بزنید.

۲۴- مقدار n چقدر است؟

(I) $\Delta n = -10$

(II) $n < 0$

(۱) I کافی و II ناکافی (۲) هر دو کافی، به تنهایی ناکافی

(۳) I و II به تنهایی کافی (۴) I و II هر دو ناکافی

۲۵- سود سالیانه یک شرکت از درآمد سالیانه آن، منهای هزینه‌های سالیانه محاسبه می‌شود. سود سالیانه شرکت A در سال ۲۰۱۱ چقدر است؟

(I) درآمد سالیانه این شرکت در سال ۲۰۱۱ معادل ۱۱,۲۲۳,۴۵۶ ریال است.

(II) هزینه‌های سالیانه این شرکت در سال ۲۰۱۱ معادل ۸,۲۴۷,۹۳۴ ریال است.

(۱) I کافی و II ناکافی (۲) هر دو کافی، به تنهایی ناکافی

(۳) I و II به تنهایی کافی (۴) I و II هر دو ناکافی

۲۶- کدام یک از شهرهای زیر در دورترین نقطه شمال غربی قرار گرفته است؟

(۱) B (۲) A (۳) C (۴) D

۲۷- کدام یک از شهرهای زیر، لزوماً باید هم در شمال و هم در غرب E قرار داشته باشد؟

(۱) B و C (۲) C و D (۳) B و A (۴) A و C

۲۸- کدام یک از شهرهای زیر، لزوماً باید هم در شمال و هم در غرب حداقل یک شهر دیگر قرار داشته باشند؟

(۱) F و A (۲) F و D (۳) F و C (۴) E و C و D

۲۹- کدام یک از عبارت‌های زیر، لزوماً صحیح نیستند؟

(۱) B شمال F است. (۲) E شمال D است.

(۳) C شرق F است. (۴) C شمال D است.

۳۰- شهرهای B و C چه موقعیتی نسبت به هم دارند؟

- (۱) B در شمال شرقی C قرار دارد
(۲) C در جنوب شرقی B قرار دارد.
(۳) B در جنوب شرقی C قرار دارد
(۴) C در شمال غربی B قرار دارد.

فناوری اطلاعات و مهارت های هفت گانه ICDL

۳۱- در صورت قفل شدن کامپیوتر، استفاده از کدام گزینه مؤثر خواهد بود؟

- (۱) Hibernate (۲) Stand By (۳) Restart (۴) Log Off

۳۲- ناشر ایران عرضه - کدام نوع حافظه فرار است؟

- (۱) ROM (۲) Hard Disk (۳) RAM (۴) DVD

۳۳- کدام یک از موارد زیر از وظایف سیستم عامل نیست؟

- (۱) مدیریت و کنترل I/O (۲) مدیریت و تخصیص وقت CPU
(۳) مدیریت و تخصیص حافظه (۴) مدیریت Power

۳۴- کدام یک از گزینه های زیر صحیح است؟

- (۱) پس از حذف یک فایل، امکان بازگرداندن آن فایل وجود دارد.
(۲) حذف (Delete) آن را به کلیپ برد منتقل می کند.
(۳) نام فایل ها در ویندوز از دو بخش تشکیل شده که بخش اول نوع فایل را مشخص می کند.
(۴) با حذف آیکن یک برنامه از روی رومیزی (Desktop) امکان اجرای آن برنامه وجود ندارد.

۳۵- چنانچه بخواهیم وضعیت فعلی برنامه ها به همان حالت حفظ شود تا پس از روشن کردن کامپیوتر به همان حالت

برگردد کدام گزینه کلیک می شود؟

- (۱) Restart (۲) Shut Down (۳) Stand By (۴) Log Off

۳۶- برای چاپ سند به صورت افقی در Word از کدام گزینه استفاده می شود؟

- (۱) Portrait (۲) Landscape
(۳) Front to Back (۴) Back to Front

۳۷- جایگزینی در Word با کدام کلیدها امکان پذیر می باشد؟

- (۱) Ctrl+F (۲) Ctrl+U (۳) Ctrl+H (۴) Ctrl+B

۳۸- به منظور رفتن تایپ به خط بعد و تشکیل نشدن پاراگراف جدید از کدام یک استفاده می شود؟

- (۱) Enter (۲) Shift+Enter (۳) Ctrl+Enter (۴) Alt+Enter

۳۹- برای گذاشتن نقطه نظرات و پیشنهادات بر روی متن تایپ شده از کدام گزینه استفاده می شود؟

- (۱) Comment (۲) Footnote

٤٠- عملگر توان در اکسل کدام است؟

١) % ٢) & ٣) x ٤) ^

٤١- تابع اجرای شرط در اکسل چیست؟

١) True ٢) If ٣) Condition ٤) Count

٤٢- جهت رفتن به خط بعد در یک سلول نرم افزار Excel از کدام کلید استفاده می شود؟

١) Enter ٢) Shift+Enter ٣) Alt+Enter ٤) Ctrl+Enter

٤٣- زمانی که یک عبارت غیرمعتبر در فرمول وارد شود، کدام پیام خطا نشان داده می شود؟

١) #NAME? ٢) #REF! ٣) #VALUE! ٤) #VALID!

٤٤- کدام یک از نرم افزارهای زیر برای برنامه های گرافیکی استفاده نمی شود؟

١) 3D MAX ٢) Corel Draw ٣) Photoshop ٤) Fox Pro

٤٥- پسوند فایل های پیام ذخیره شده در Outlook کدام است؟

١) MSG ٢) PPT ٣) DWG ٤) BTM

زبان انگلیسی عمومی

46- When I arrived at the airport I had a porter my baggage into my car.

1) carry 2) carrying 3) carried 4) to carry

47- I have caught a bad cold. I wish I out in the rain yesterday.

1) weren't 2) didn't go 3) wasn't 4) hadn't gone

48- When I woke up this morning the light was on. Someone have forgotten to turn it off.

1) could 2) must 3) should 4) would

49- Hamid wanted to have a new car, and so his brother.

1) did 2) had 3) wanted 4) might

50- The results of the examination will be in two weeks

1) advised 2) appointed 3) assigned 4) announced

51- {iranarze.ir} Organize your before you begin writing

1) matters 2) thoughts 3) plans 4) subjects

52- The bank refused to give him a day off. So he had to that he was ill.

1) attend 2) attempt 3) intend 4) pretend

53- English is spoken in most of the countries of the world. It is in fact considered an language.

- | | |
|------------------|------------------|
| 1) industrial | 2) independent |
| 3) technological | 4) international |

54- Our class is twelve boys and eight girls

- | | |
|-------------------|----------------|
| 1) provided with | 2) composed of |
| 3) concerned with | 4) full of |

55- I cannot ever forget the kind on his face

- | | |
|----------------|---------------|
| 1) attraction | 2) expression |
| 3) recognition | 4) impression |

Cloze Test

The atmosphere keeps part of the sun's light from reaching the earth. Plants and animals could not ... (56) ... on the earth without some light and ... (57) ... from the sun, but if all of the sun's light ... (58) ... the earth, they would kill living things. ... (59) ... , the earth's covering of air prevents sudden great changes in ... (60) ... such changes would be dangerous for living things.

56-

- | | | | |
|------------|---------|---------|---------|
| 1) breathe | 2) keep | 3) live | 4) work |
|------------|---------|---------|---------|

57-

- | | | | |
|----------|----------|---------|---------|
| 1) could | 2) storm | 3) rain | 4) heat |
|----------|----------|---------|---------|

58-

- | | | | |
|-------------|------------|--------------|-------------|
| 1) directed | 2) reached | 3) reflected | 4) produced |
|-------------|------------|--------------|-------------|

59-

- | | | | |
|-------------|------------|----------|--------------|
| 1) Although | 2) Whether | 3) Until | 4) Therefore |
|-------------|------------|----------|--------------|

60-

- | | | | |
|--------------|------------|----------------|--------------|
| 1) departure | 2) mixture | 3) temperature | 4) structure |
|--------------|------------|----------------|--------------|

ریاضی و آمار مقدماتی

۶۱- اگر A و B دو زیر مجموعه از اعداد طبیعی بوده و A متناهی و B نامتناهی باشد، کدام مجموعه الزاماً نامتناهی است؟

- | | | | |
|----------------|----------------|----------------|-----------------|
| ۱) $A \cup B'$ | ۲) $A \cap B'$ | ۳) $A \cup B'$ | ۴) $A' \cap B'$ |
|----------------|----------------|----------------|-----------------|

۶۲- کوچکترین عدد قابل قسمت بر همه اعضای مجموعه {۲ و ۳ و ۴ و ۵ و ۶ و ۹} کدام است؟

۶۴۸ (۴)

۶۷۵ (۳)

۱۸۰ (۲)

۱۳۵ (۱)

۶۳- ناشر ایران عرضه - اگر $A = 18a^3b^3$ و $B = 6a^2b$ باشد، کوچکترین عبارتی که می توان به جای x قرار داد تا $x \times B \times x$

A مجذور کامل گردد به شرطی که a و b اعداد طبیعی غیر مربع کامل باشند، کدام است؟

۳a (۴)

ab (۳)

a (۲)

۹۸a (۱)

۶۴- یکی از عامل های $3x^3+5x^2+2x$ کدام است؟

2x-1 (۴)

x+1 (۳)

x-1 (۲)

2x+1 (۱)

۶۵- حاصل عبارت $\frac{a^2-b^2}{ab-b^2} - \frac{ab-b^2}{b^2}$ کدام است؟

۲a-۲b (۴)

۲ (۳)

-۲ (۲)

۲b (۱)

۶۶- به عبارت $x^3 - 5x^2 - x$ چند واحد اضافه شود تا حاصل بر $x-1$ قابل قسمت باشد؟

۴ (۴)

۱ (۳)

-۵ (۲)

۵ (۱)

۶۷- خط به معادله $3y-4x=6$ محورهای مختصات را در نقاط A و B قطع می کند. اندازه پاره خط AB کدام است؟

3 (۴)

$2\sqrt{2}$ (۳)

2.5 (۲)

$\sqrt{5}$ (۱)

۶۸- نقطه $A \left| \begin{matrix} 3 \\ 2 \end{matrix} \right|$ یک رأس مربع و خط $3x+4y+3=0$ معادله یکی از قطر های مربع است. مساحت مربع کدام است؟

۱۶ (۴)

۳۲ (۳)

۸ (۲)

۴ (۱)

۶۹- حاصل $\frac{(1-a^{-2})a^2}{(\sqrt{a}-1)^2+2\sqrt{a}}$ کدام است؟

$\frac{1}{1+a}$ (۴)

1-a (۳)

a-1 (۲)

a+1 (۱)

سوال	پاسخ	سوال	پاسخ	سوال	پاسخ	سوال	پاسخ	سوال	پاسخ	سوال	پاسخ
۱	۳	۲۴	۱	۴۶	۱	۶۹	۲				
۲	۱	۲۵	۲	۴۷	۴						
۳	۲	۲۶	۱	۴۸	۲						
۴	۳	۲۷	۱	۴۹	۱						
۵	۲	۲۸	۱	۵۰	۴						
۶	۳	۲۹	۴	۵۱	۲						
۷	۳	۳۰	۲	۵۲	۴						
۸	۴	۳۱	۳	۵۳	۴						
۹	۲	۳۲	۳	۵۴	۲						
۱۰	۱	۳۳	۴	۵۵	۲						
۱۱	۴	۳۴	۱	۵۶	۳						
۱۲	۴	۳۵	۳	۵۷	۴						
۱۳	۱	۳۶	۲	۵۸	۲						
۱۴	۴	۳۷	۳	۵۹	۴						
۱۵	۲	۳۸	۲	۶۰	۳						
۱۶	۴	۳۹	۱	۶۱	۱						
۱۷	۳	۴۰	۴	۶۲	۲						
۱۸	۱	۴۱	۲	۶۳	۴						
۱۹	۱	۴۲	۳	۶۴	۳						
۲۰	۲	۴۳	۳	۶۵	۳						
۲۱	۳	۴۴	۴	۶۶	۱						
۲۲	۱	۴۵	۱	۶۷	۲						
۲۳	-	۴۶	۱	۶۸	۳						